



**EVALUAREA COMPETENȚELOR FUNDAMENTALE
LA FINALUL CLASEI a II-a
2014**

MODEL 2

MATEMATICĂ

Județul / sectorul.....

Localitatea.....

Școala.....

Numele și prenumele elevei / elevului.....

.....

Clasa a II-a.....

Băiat ☐

Fată ☐

Otto und seine Kollegen haben das Treibhaus besucht, in dem Ottos Mutter arbeitet. Dort hat man für mehrere Blumenläden 419 Tulpen, 360 Hyazinthen, 306 Nelken und 277 Rosen gepflückt.



419 Tulpen



360 Hyazinthen



306 Nelken



277 Rosen

1. Welches ist die steigende Reihenfolge der gepflückten Blumen, ihrer Anzahl nach?
Kreise den Buchstaben für die richtige Antwort ein.

- a) Tulpen, Hyazinthen, Nelken, Rosen
- b) Rosen, Nelken, Hyazinthen, Tulpen
- c) Rosen, Hyazinthen, Nelken, Tulpen
- d) Tulpen, Nelken, Hyazinthen, Rosen

Nu se completează de către elev
COD

1.

2. Otto glaubt, dass die Anzahl der Hyazinthen größer ist als die Anzahl der Nelken.
Schreibe das passende Zeichen (<, > oder =) zwischen die Anzahl der Hyazinthen und die Anzahl der Nelken, um zu zeigen, wer Recht hat.

360 306

Nu se completează de către elev
COD

2.

3. Welche der folgenden Rechnungen muss man durchführen, um die gesamte Anzahl der gepflückten Tulpen und Hyazinthen zu erfahren?

Kreise den Buchstaben für die richtige Antwort ein.

- a) $419 + 306$
- b) $419 + 360$
- c) $419 - 306$
- d) $419 - 360$

Nu se completează de către elev
COD

3.	<input type="text"/>
----	----------------------

4. Wie viele Nelken müsste man noch pflücken, um genau so viele Nelken wie Tulpen zu haben? **Kreise den Buchstaben für die richtige Antwort ein.**

- a) 13 Nelken
- b) 33 Nelken
- c) 103 Nelken
- d) 113 Nelken

Nu se completează de către elev
COD

4.	<input type="text"/>
----	----------------------

5. Ottos Mutter pflückt die Tulpen in zwei Wochen und einem Tag. Wie viele Tage sind das?

Kreise den Buchstaben für die richtige Antwort ein.




- a) 8 Tage
- b) 14 Tage
- c) 15 Tage
- d) 16 Tage

Nu se completează de către elev
COD

5.	<input type="text"/>
----	----------------------

6. Zuhause bastelt Otto seiner Mutter eine Glückwunschkarte mit Blumenmuster. Welches sind die beiden Blumen, die in dem Muster folgen?

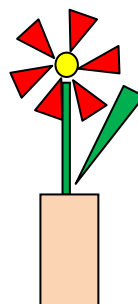
Kreise den Buchstaben für die richtige Antwort ein.



Nu se completează de către elev
COD

6.

a) Kreis
b) Quadrat
c) Dreieck
d) Rechteck



7.

Schreibe die richtige Antwort in den unteren Satz.

[illegible]

Die haben den Kindern am meisten gefallen.

8.

9. Eine Woche lang wurde zu Mittag die Temperatur im Treibhaus gemessen und in eine Tabelle aufgeschrieben. An welchen Tagen war die Temperatur niedriger als 17 Grad? **Kreise den Buchstaben für die richtige Antwort ein.**

TAG	Montag	Dienstag	Mittwoch	Donnerstag	Freitag	Samstag	Sonntag
GRAD	20	17	15	19	18	16	18

- a) Dienstag und Sonntag
- b) Dienstag und Samstag
- c) Mittwoch und Samstag
- d) Dienstag und Mittwoch

Nu se completează de către elev
COD

9.

10. Montag Morgen wurden 275 Blumen in die Blumenläden transportiert, am Nachmittag 235 Blumen. Wie viele Blumen wurden am Montag insgesamt in die Blumenläden transportiert? **Schreibe die Lösung in die unteren Kästchen.**

[illegible]

Nu se completează de către elev
COD

10.

Schreibe die Lösung in die unteren Kästchen.

[illegible]

11.

7

Schreibe die entsprechenden Zahlen in die freien Kästchen der Tabelle.

Blumen	Anzahl
Gladiolen	
	28
Hyazinthen	

12.

10

MULȚUMIM PENTRU PARTICIPARE!